

## Wyprawa do Ameryki



Moja mama ma misia. On ma na imię Cebulka. Miś ma 30 lat i jest łysy. On jest zawsze z mamą w podróży – mama mówi, że przynosi jej szczęście.

Mama jest dziennikarką i dużo podróżuje. Tym razem ma być w podróży ponad miesiąc. Jedzie do Ameryki Północnej.

Patrzę na mapę razem z Cebulką, który jest już gotowy do drogi.

Na północy jest **Grenlandia**. Na zachodzie **Alaska**, w środku **Stany Zjednoczone**, a na południu **Meksyk**.

– Myślałam, że **Kanada** jest mniejsza od Stanów Zjednoczonych... – mówię zdziwiona.

– Nie, Kanada to drugi największy kraj na świecie. Największym jest **Rosja**. W Kanadzie nie mieszka tylu ludzi, ilu w Stanach Zjednoczonych. **Chiny** i **Indie** to państwa, w których żyje najwięcej ludzi – mówi mama i zamyka walizkę.

Lot z Warszawy do Nowego Jorku to dziewięć i pół godziny. W Warszawie jest inna godzina niż w Nowym Jorku. Jeśli w Polsce jest 15.00 to Nowym Jorku dopiero 9.00.

Pierwszy mail od mamy przychodzi następnego dnia. Nie jest podpisany „Mama” tylko „Cebulka”!





„Kochana Małgosiu,  
Mieszkamy na Manhattanie, czyli w centrum Nowego Jorku. Są tu bardzo wysokie budynki, dużo światła i bardzo dużo ludzi. Wszyscy uśmiechają się do siebie. Mama porozmawiała już z czterdziestoma osobami.

Byli to wśród nich Latynosi, czyli ludzie, którzy przybyli tu z Ameryki Południowej lub Środkowej. Byli też Niemcy, Irlandczycy, Rosjanie, Polacy, Żydzi i Francuzi. Wszyscy pochodzą z różnych krajów, ale czują się Amerykanami”.

Nie rozumiem tego, więc pytam tatę:

- Kim są w takim razie prawdziwi Amerykanie?
- To **Indianie** i **Innuici**, rdzenni mieszkańcy Ameryki Północnej. Rdzenni, czyli mieszkali tutaj od początku. Jest ich teraz bardzo niewiele. Innuici mieszkają na Grenlandii i na Alasce, ale również w Kanadzie.

Następny mail od Cebulki przychodzi dwa dni później. Dalej są z mamą w Nowym Jorku.




**Popatrz na mapę świata.  
Znajdź Polskę i Stany Zjednoczone.  
Gdzie jest Warszawa, a gdzie Nowy Jork?  
Zaznacz strzałką podróż mamy**



**Znajdź na mapie kraje zaznaczone w tekście kolorem niebieskim. Możesz poprosić o pomoc koleżankę, kolegę lub nauczyciela**

**Tata opowiedział dziewczynce o rdzennych mieszkańcach Ameryki Północnej, czyli o tych ludziach, którzy mieszkali tam od początku. Znajdź w tekście słowa zaznaczone kolorem pomarańczowym i wpisz je niżej**



Rdzenni mieszkańcy Ameryki to .....



Dzisiaj jest ich niewiele i mieszkają .....,  
..... i w .....

**Przepisz zdania:**

.....

.....

.....

.....

.....

# Tropiciel słówek

1. Podkreśl w tekście 3 nowe słowa i zrób karty do słowniczka



LITERA

SŁOWO



OBJAŚNIENIE

ZDJĘCIE/OBRAZEK

.....

.....

.....

.....


.....

ZDANIE

.....

.....

# Tropiciel słówek



**LITERA**

**SŁOWO**



**OBJAŚNIENIE**

.....

.....

.....

**ZDJĘCIE/OBRAZEK**

.....

.....

**ZDANIE**

.....

.....

# Tropiciel słówek



LITERA

[Dashed rectangular box for writing a letter]

SŁOWO

[Dashed rectangular box for writing a word]



OBJAŚNIENIE

.....  
.....  
.....

ZDJĘCIE/OBRAZEK

[Dashed rectangular box for drawing or pasting a picture]

.....  
.....

ZDANIE

.....  
.....



# Jak działa język?



Alaska jest **duża**.

Kanada jest **większa** niż Alaska.

Rosja jest **największa**.

**Jaka?**

duża → większa → największa

Rosja jest **duża**.

Kanada jest **mniejsza** niż Rosja

Alaska jest **najmniejsza**.

**Jaka?**

duża → mniejsza → najmniejsza

Niebieska walizka jest duża. **Pomarańczowa** walizka jest większa. **Czerwona** walizka jest największa.

**Zielony** samolot jest duży. **Niebieski** jest mniejszy. Czarny jest najmniejszy.

# Uzupełnij

Co jest **duże, większe, największe?**



Napisz 3 zdania do wyrazów z tabeli:

.....

.....

.....

Co jest **duże, mniejsze i najmniejsze?**




Napisz 3 zdania do wyrazów z tabeli:

.....

.....



## **Napisz, jakie są najmniejsze a jakie największe państw Europy.**



Najmniejsze państwa Europy to:

.....  
.....

Największe państwa Europy to:

.....  
.....

## **Jakie znasz najmniejsze państwa świata? Popatrz na mapę!**

Najmniejsze państwa świata to:

.....  
.....